

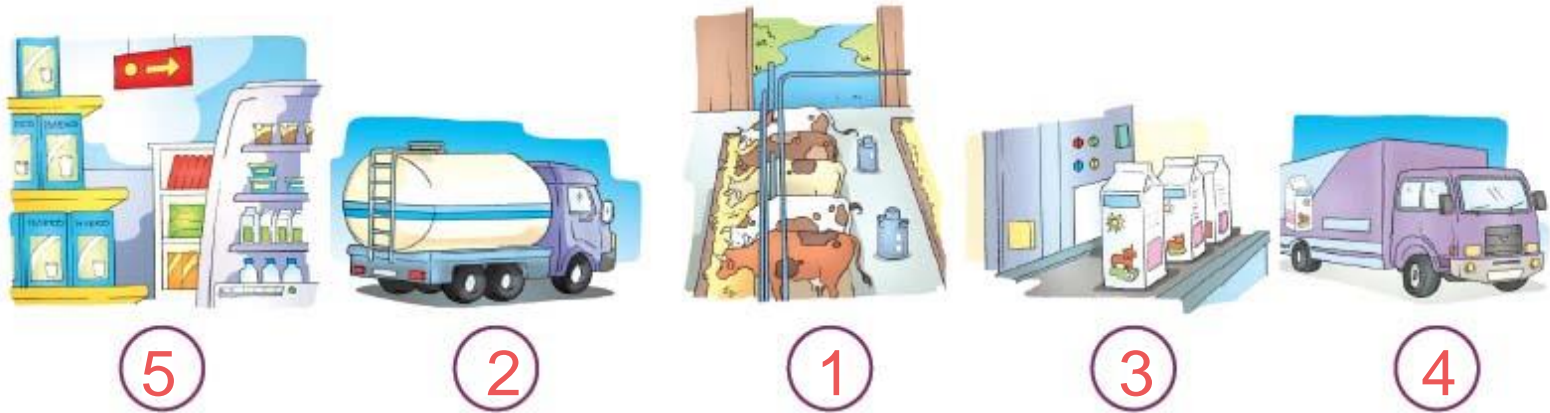
ЖИВОТ У НАСЕЉУ



Решење задатака из радне свеске

Страна 84

- 1 Сlike приказују повезаност села и града на примеру производње млека. Бројевима од 1 до 5 означи правилан редослед производње.




- 2 Напиши шта треба људи да ураде да би направили џем од кајсија.

Да би људи направили џем од кајсија прво треба да: гаје воћњак у којем расту кајсије. Када кајсије буду зреле, треба да их обере, (ИЛИ: купи кајсије на пијаци од сељака), да их опере, самеле и скува џем.

Решење задатака из радне свеске

3 Напиши једно своје право и једну одговорност коју имаш као становник насеља.

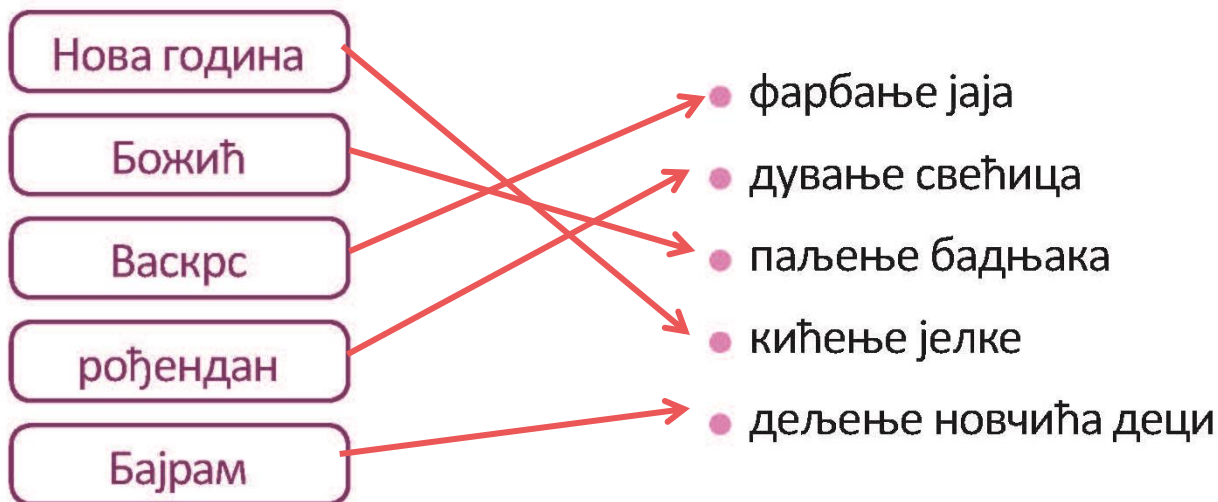
4 Повежи стрелицама предмете из прошлости са предметима које сада користимо за исту намену.



Решење задатака из радне свеске

Страна 85

5 Повежи празнике са обичајима везаним за њих.



Решење задатака из радне свеске

- 6 Пажљиво прочитај текст. У њему има нетачних тврдњи. Подвуци их, а испод текста их напиши тако да буду тачне.

Објекти које лако уочавамо и памтимо нам помажу да се лакше снађемо у насељу. Назив улица у насељу је написан на табли која се налази само на крају улице. Бројеви на десној страни улице увек су непарни, а на левој парни. Путокази нам помажу да се снађемо у насељу.

Назив улица у насељу је написан на табли која се налази само на почетку улице.

Бројеви на левој страни улице увек су непарни, а на десној парни.

Решење задатака из радне свеске

7 Обој кружиће испод слика које припадају путничком копненом саобраћају.



8 Зашто је важно да поштујемо правила понашања у саобраћају?

Важно је да поштујемо правила понашања у саобраћају да бисмо били безбедни.

Решење додатног задатка

